


Odpověz na všechny otázky

- Na kolejišti číslo 2 vidíš dopravní nehodu vlaku. V případě nehody:**
 - odjedu na nejbližší stanici policie a podám hlášení
 - raději odjedu pryč
 - zavolám číslo 155
- 
- Na kolejišti číslo 3 nastupuje dítě do auta. Zaškrtni, kdy musíš vždy pro jízdu v autě použít sedačku nebo podsedák:**
 - měřím méně než 150 cm a vážím méně než 36 kg
 - měřím méně než 160 cm a vážím méně než 56 kg
 - měřím méně než 130 cm a je mi méně než 12 let
 - Na kolejišti Ústeckého kraje vidíš přechod pro chodce, který vede přes tramvajové koleje. Na takovém přechodu:**
 - má tramvaj vždy přednost
 - mám vždy přednost
 - mám přednost jen když jedu na kole
 - Pravidla silničního provozu stanoví:**
 - vyhláška ministerstva vnitra
 - zákon
 - nařízení vlády
 - Cyklistická přilba je:**
 - je povinná mimo stezky pro cyklisty
 - je nepovinnou výbavou cyklisty do 18 let
 - je povinnou výbavou cyklisty do 18 let
 - Na kolejištích se v pravidelně střídá den a noc. Za tmy a snížené viditelnosti na kole raději nevyjíždím, jestliže ano, musím mít k povinné výbavě ještě:**
 - vpředu a vzadu bílé světlo a na sobě reflexní doplňky
 - vpředu a vzadu červené světlo
 - vpředu bílé, vzadu červené světlo a na sobě reflexní doplňky
 - Řidičské oprávnění AM pro řízení mopedů a malých motocyklů do konstrukční rychlosti 45 km/h lze udělit osobě:**
 - které je více než 15 let a má písemný souhlas obou rodičů
 - které je 14 let
 - vždy, když o to požádají oba rodiče nebo prarodiče

8. **Používat mobilní telefon a sluchátka cyklista během jízdy na kole:**
- smí při jízdě na cyklostezce
 - nikdy nesmí
 - smí, jen když jede pomalu
9. **Při jízdě na kole jsem pozorný a spoléhám se:**
- vždy na sebe a počítám s chybami druhých
 - na to, že se řidiči vždy chovají podle předpisů
 - na to, že na mne všichni berou ohled
10. **Při přecházení silnice s více jízdními pruhy se rozhlédnu na začátku a:**
- na konci
 - v průběhu přecházení do každého jízdního pruhu; zpomalím nebo zastavím
 - v průběhu přecházení do každého jízdního pruhu; nikdy nezastavuji
11. **V obci smí jet řidič rychlostí nejvýše:**
- 40 km/h
 - 50 km/h
 - 60 km/h




12. **Na kolejišti Ústeckého kraje jsou za nádražím v Děčíně zaparkována auta. Napište, která z nich mohou mít v provozu absolutní přednost a v jakém případě tuto přednost mají:**
-


14. **Na stezce pro cyklisty se smějí pohybovat:**
- cyklisté mladší 10-ti let a jejich pěší doprovod
 - všichni kromě motorových vozidel
 - cyklisté a bruslaři

15. **Spáruj správně názvy značek s obrázky a značky vybarvi podle skutečnosti.**

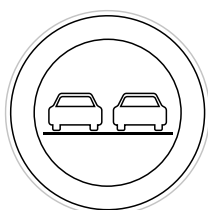
- nejvyšší povolená rychlost
- obytná zóna
- zákaz předjíždění
- stezka pro cyklisty
- zákaz vjezdu motocyklů




1.




2.



3.



4.



5.